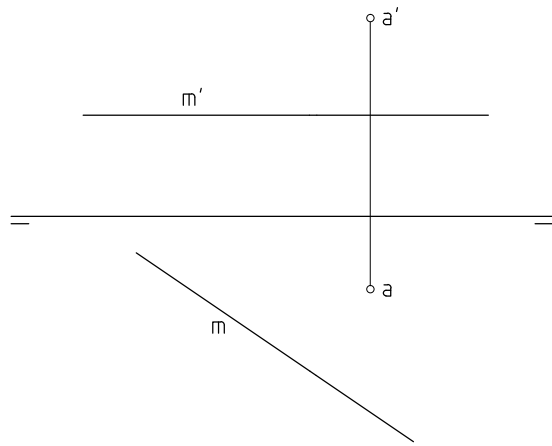
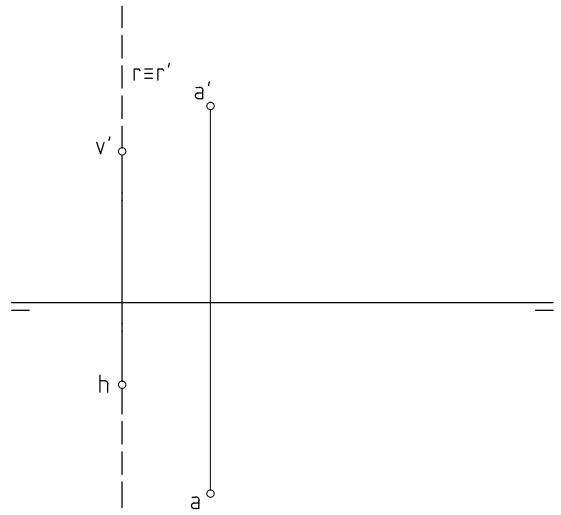


1



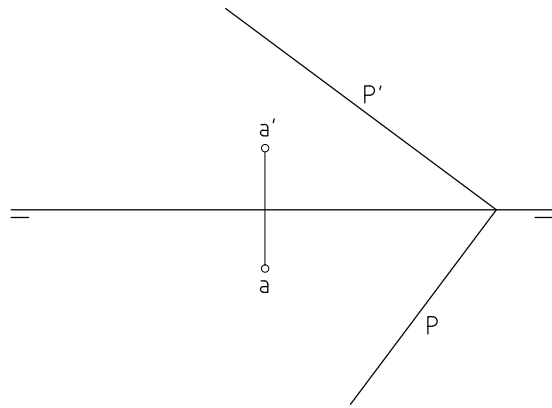
Por el punto A trazar la recta que corta perpendicularmente a la recta horizontal M.

2



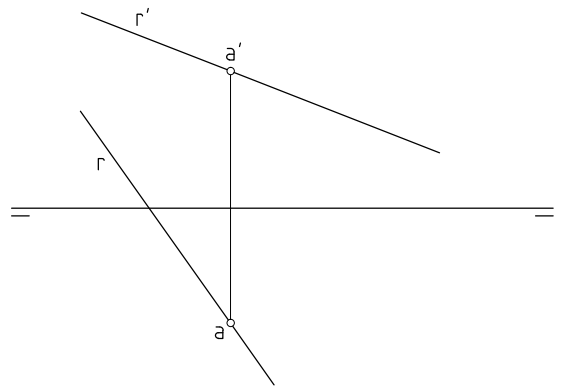
Por el punto A trazar la recta que corta perpendicularmente a la recta de perfil R.

3



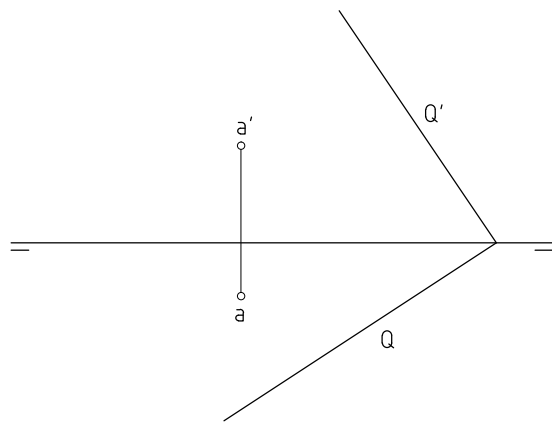
Por el punto A trazar la recta R, perpendicular al plano P.

4



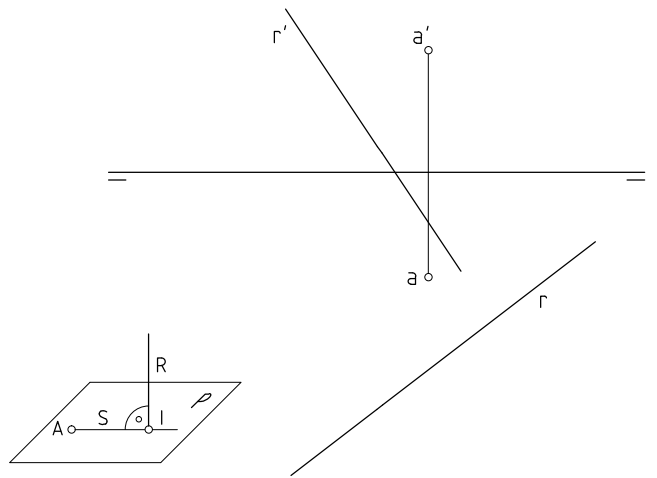
Por el punto A trazar el plano perpendicular a la recta R.

5



Representar el plano P, perpendicular a Q y al PH, que pasa por el punto A.

6



Por el punto A, trazar la recta perpendicular a la recta R.

© EDITORIAL ALARCÓN, PRÁCTICAS DE DIBUJO TÉCNICO I. ISBN 978-84-697-4163-4

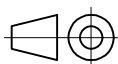
Unidades: mm.

Nombre:

Curso:

Nº

Escala
1:1



Perpendicularidad

Fecha:

D-17

Nota: