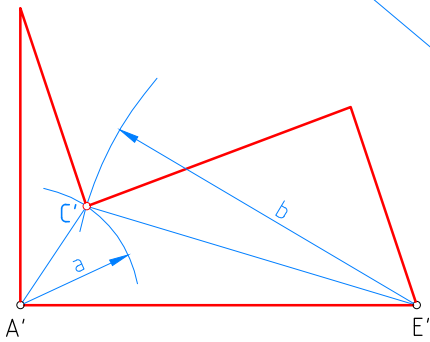
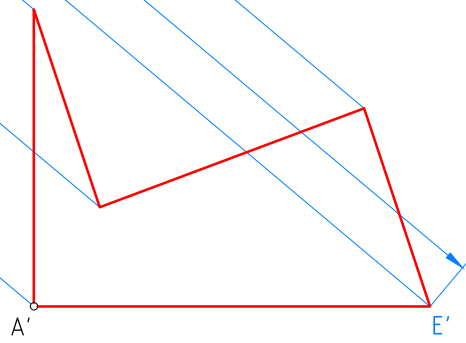


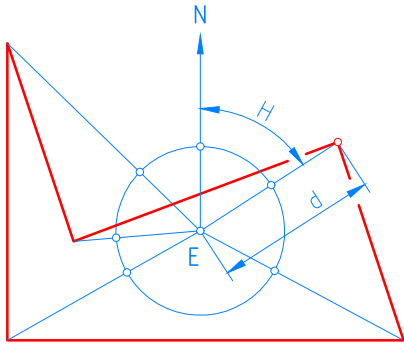
Copiar la figura ABCDEF por coordenadas cartesianas.



Copiar la figura ABCDEF utilizando una triangulación.

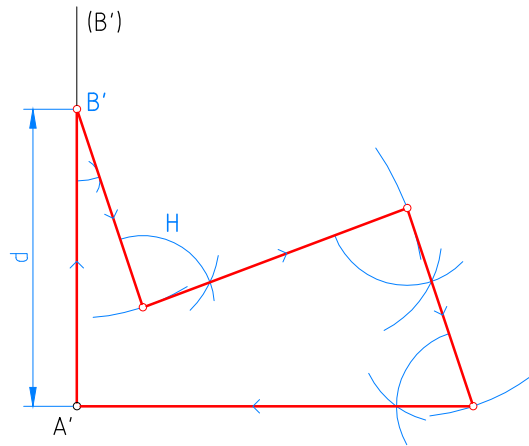


Copiar la figura ABCDEF utilizando una traslación.



La "estación" E es un punto cualquiera

Copiar la figura ABCDEF utilizando una radiación.



Copiar la figura ABCDEF utilizando un itinerario.

Unidades: mm.	Nombre:	Curso:	Nº
Escala 1:1	Igualdad		Fecha:
			B-21