


1




Construir el pentágono regular dado el lado.

2




Construir el hexágono regular dado el lado.

3




Construir el heptágono regular dado el lado.

4




Construir el octógono regular dado el lado.

5



Construir el decágono regular dado el lado.

6



Construcción aproximada de un polígono regular de 6 a 12 lados, dado el lado. Construir el eneágono.

© EDITORIAL ALARCÓN. PRÁCTICAS DE DIBUJO TÉCNICO II. ISBN 978-84-613-6145-8.

Unidades: mm.

Nombre:

Curso:

Nº

Escala
1:1

Polígonos regulares, 3

Fecha:

B-9

Nota: