
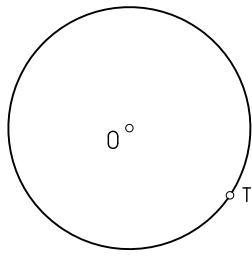

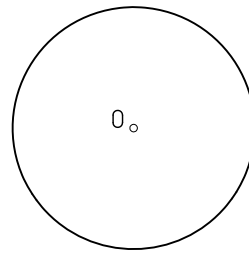


1



Trazar las circunferencias tangentes a r y a la dada en el punto T.

2




Trazar las circunferencias tangentes a la dada y a r en el punto T.

3

A

B




Trazar las circunferencias tangentes a la recta r que pasan por los puntos A y B.

4

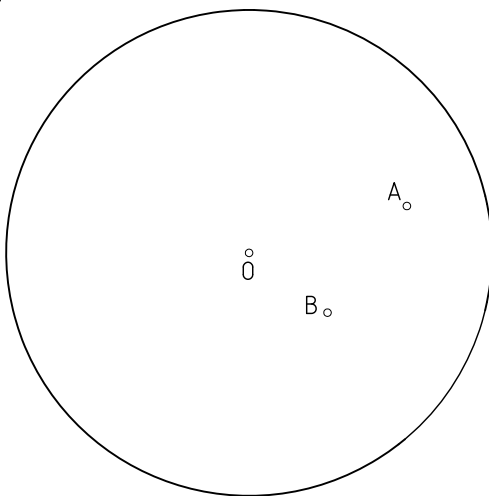
s

P



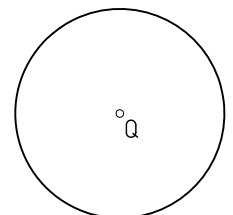
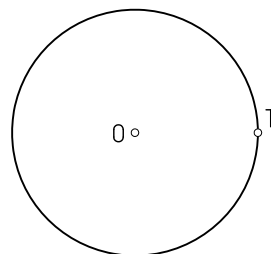
Trazar las circunferencias tangentes a las rectas r y s que pasan por el punto P.

5



Trazar las circunferencias tangentes a la de centro O que pasan por los puntos A y B.

6



Trazar las circunferencias tangentes a las dadas de centro O y Q dado el punto de tangencia T en una de ellas.

Unidades: mm.

Nombre:

Curso:

Nº

Escala  
1:1

Tangencias, 1  
Potencia

Fecha:

B-16

Nota: