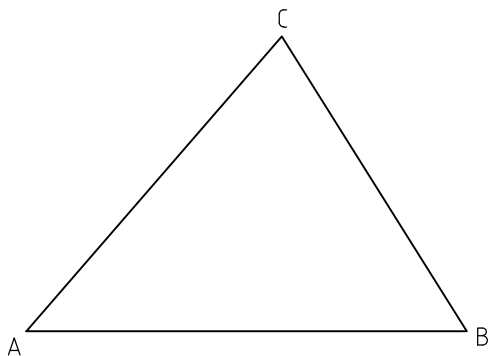
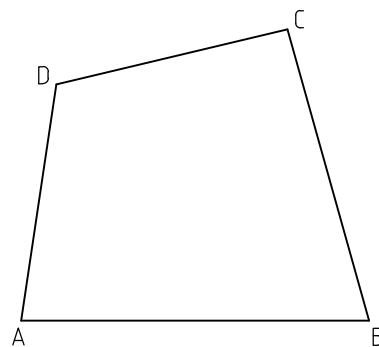


1



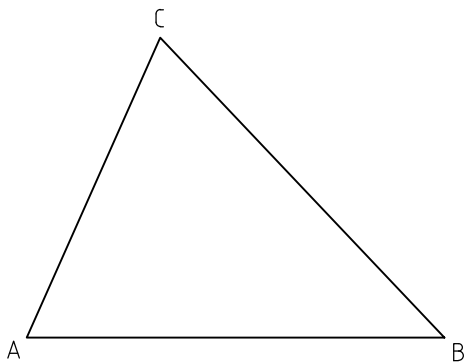
Dibujar el triángulo rectángulo equivalente del dado, ABC.

2




Dibujar un triángulo equivalente al cuadrilátero ABCD.

3



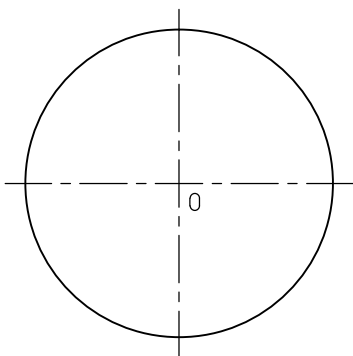
Determinar el paralelogramo rectángulo equivalente al triángulo dado.

4



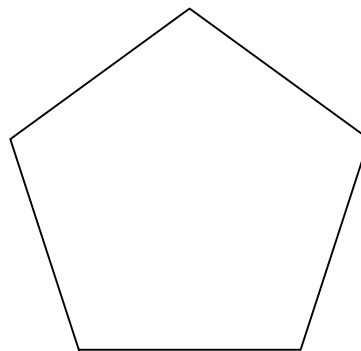
Construir el cuadrado equivalente del paralelogramo dado.

5



Determinar el cuadrado aproximadamente equivalente al círculo dado.

6



Determinar el cuadrado equivalente del pentágono regular.

Unidades: mm.

Nombre:

Curso:

Nº

Escala
1:1

Equivalencia entre figuras planas

Fecha:

B-10

Nota: