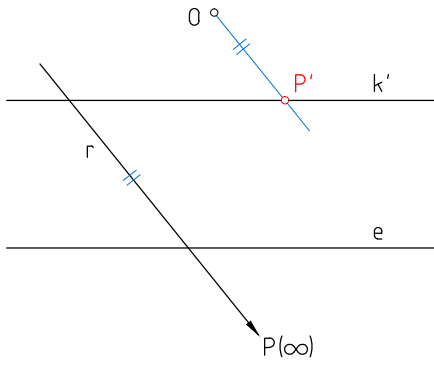
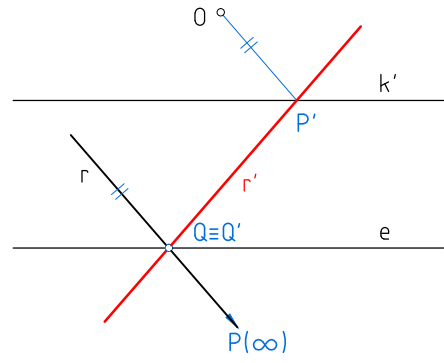


1



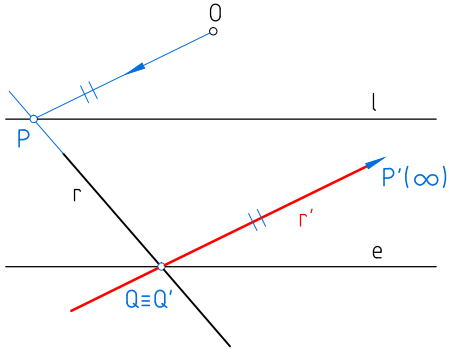
Hallar el homólogo del punto P del infinito de la recta r.

2



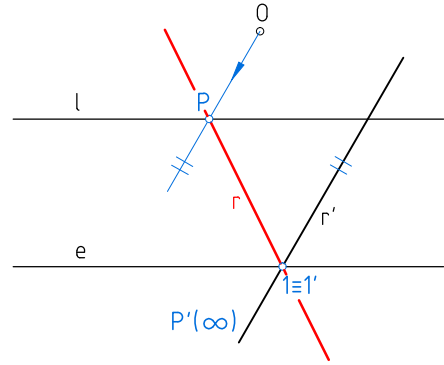
Hallar la recta r' homóloga de la dada r.

3



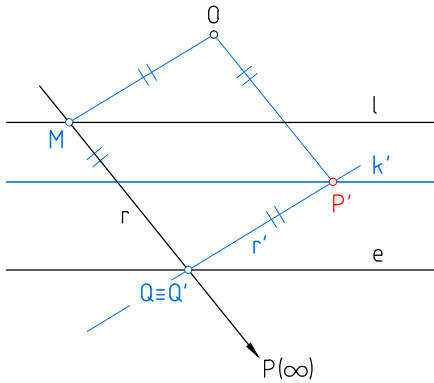
Hallar la recta r' homóloga de la dada r.

4



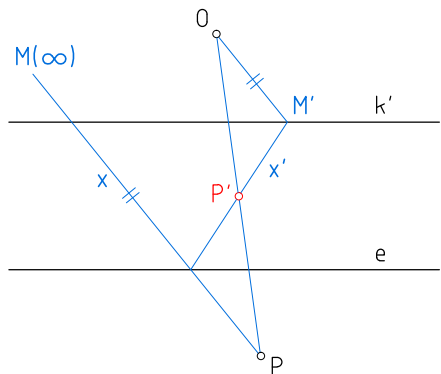
Hallar la recta r homóloga de la dada r'.

5



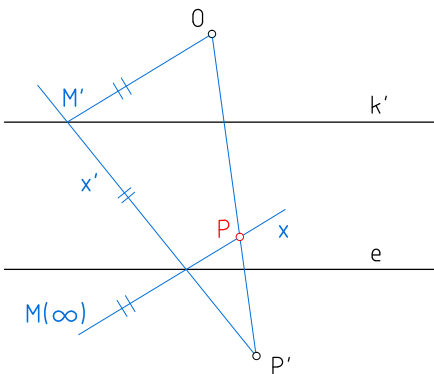
Hallar el homólogo del punto P del infinito de la recta r.

6



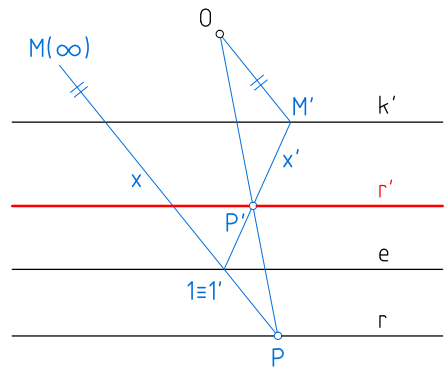
Hallar el homólogo del punto P.

7



Hallar el homólogo del punto P'.

8



Hallar la recta r', homóloga de la dada r, paralela al eje.

Unidades: mm.

Nombre:

Curso:

Nº

Escala
1:1

Homología 1

Fecha:

B-20

Nota: