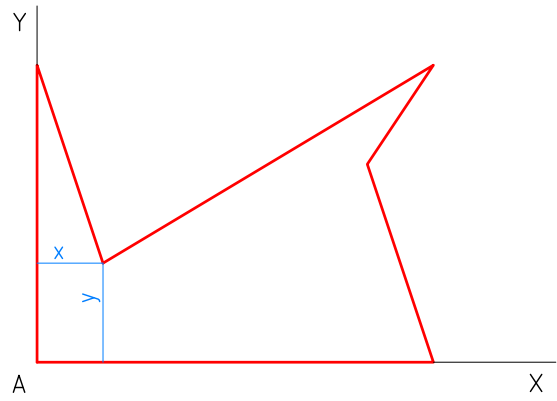
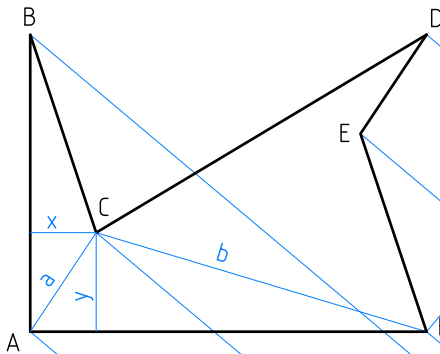
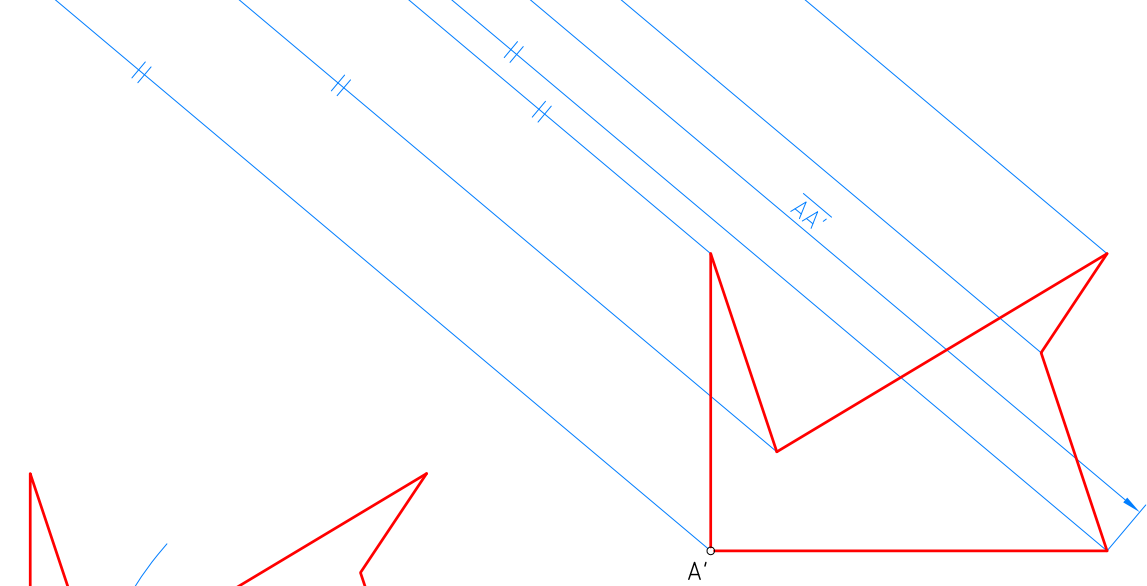


Dos figuras son iguales cuando sus lados y sus ángulos son iguales y están igualmente dispuestos.

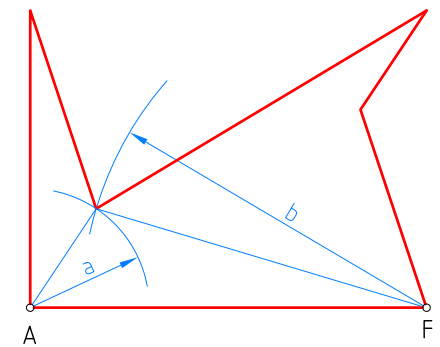
1



Copiar la figura ABCDEF por coordenadas cartesianas.



Copiar la figura ABCDEF utilizando una traslación.



Copiar la figura ABCDEF utilizando una triangulación.

|          |             |    |
|----------|-------------|----|
| Nombre:  | Curso:      | Nº |
| Escala:  | Fecha:      |    |
| :        | Lámina B-14 |    |
| Igualdad |             |    |