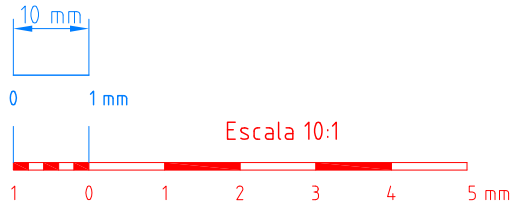


1



Construir la escala 10:1.

2



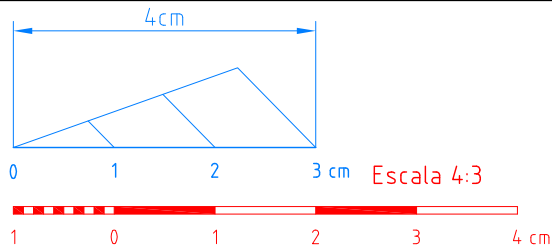
Construir la escala 1:4.

3



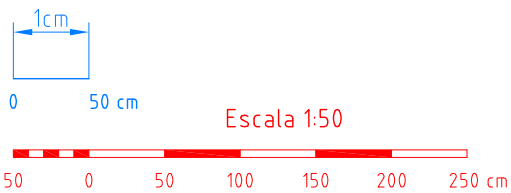
Construir la escala 3:1.

4



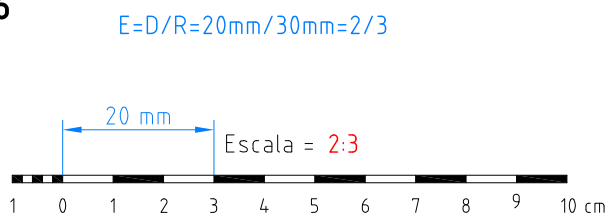
Construir la escala 4:3.

5



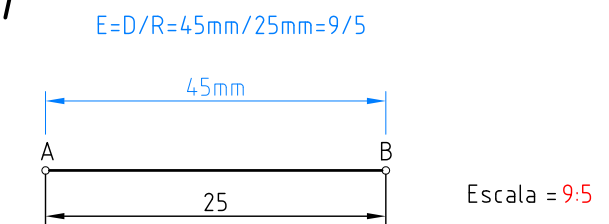
Construir la escala 1:50.

6



¿Qué escala es ésta? Razonar la respuesta.

7



Averiguar a qué escala está dibujado el segmento AB.

Nombre:

Curso:

Nº

Escala
:

Construcción de escalas

Fecha:

Lámina C-2